

ATTENZIONE
NON INIZIARE IL TEST PRIMA CHE VENGA
DATO IL SEGNALE DI INIZIO PROVA



MINISTERO DELLA DIFESA
Direzione Generale per il Personale Militare

5-C

ATTENZIONE
NON INIZIARE IL TEST PRIMA CHE VENGA
DATO IL SEGNALE DI INIZIO PROVA

il

D

ful

rw

Sto

l'ho

u D fu Ragina 2/18 VW Jolo Ceh

1) Individuare l'errore:

-
- a) un cane
 - b) un antilope
 - c) un'onda
 - d) l'automobile

2) Il nome invariabile tra i seguenti è:

-
- a) paura
 - b) verdura
 - c) capocuoco
 - d) sport

3) Quale delle seguenti opzioni di risposta riporta un'accezione del termine "mutageno"?

-
- a) Geneticamente modificato
 - b) Persona invalida, menomata
 - c) Un fattore o agente che può causare mutazioni genetiche
 - d) Individuo portatore di una mutazione genetica

4) Si indichi che tipo di subordinata è quella sottolineata nella seguente frase: "Quando mi parlò, scoppiai in lacrime"?

-
- a) avversativa
 - b) strumentale
 - c) temporale
 - d) comparativa

5) Quale tra questi non è un sinonimo di "necessitare"?

-
- a) avere bisogno
 - b) esigere
 - c) domandare
 - d) occorrere

6) Quale complemento indica la persona per mezzo della quale si compie l'azione del verbo?

-
- a) Mezzo
 - b) Fine
 - c) Modo
 - d) Causa

7) Nella frase "Non mi resta più niente da fare", che tipo di pronome è "niente"?

-
- a) Indefinito
 - b) Dimostrativi
 - c) Numerali
 - d) Oggettivi

8) Nella frase la bimba piccola piange spesso, "piccola" è...

-
- a) avverbio
 - b) verbo
 - c) pronome
 - d) aggettivo

9) Nella frase "Si è pentito del matrimonio" la forma riflessiva è...

-
- a) propria
 - b) apparente
 - c) pronominale
 - d) reciproca

10) Nella frase "Ad eccezione di Luca siamo tutti d'accordo" troviamo un complemento...

- a) di materia
- b) di esclusione
- c) di causa efficiente
- d) di specificazione

11) Cosa si intende per "chostro"?

- a) Il cortile interno di un monastero
- b) Una comunità religiosa
- c) Un porticato
- d) Un passaggio sotterraneo

12) Nella frase "Possiamo cambiare i canali con il telecomando", quale complemento troviamo?

- a) Fine
- b) Modo
- c) Mezzo
- d) Causa

13) Nella frase "Luigi lavora i campi", i campi che complemento è?

- a) Complemento di termine
- b) Complemento di specificazione
- c) Complemento oggetto
- d) Complemento predicativo del soggetto

14) Nella frase "Tutti noi ci esercitiamo con molto impegno", quale tipo di complemento troviamo tra i seguenti?

- a) Modo
- b) Fine
- c) Compagnia
- d) Mezzo

15) Si trovi la frase con il modo imperativo:

- a) Mi sbrigo se voglio arrivare in tempo
- b) Sbrigandosi possono arrivare in tempo
- c) Sbrigati, se vuoi arrivare in tempo
- d) Si sbrigano se vogliono arrivare in tempo

16) La frase 'Abbiamo spento il fuoco con una coperta' contiene un complemento:

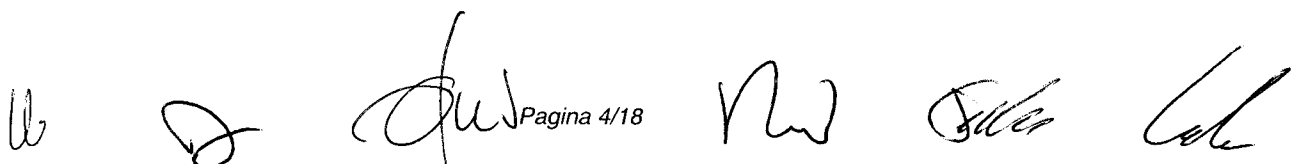
- a) di materia
- b) oggetto
- c) predicativo dell'oggetto
- d) Di termine

17) Le proposizioni subordinate relative o attributive-appositive o aggettive sono quelle che...

- a) hanno funzione analoga a quella di un attributo o un'apposizione rispetto ad un sostantivo
- b) completano il predicato della proposizione principale reggente svolgendo nel periodo la funzione di complemento oggetto o soggetto
- c) hanno funzione analoga a quella di un attributo o un'apposizione rispetto ad un sostantivo
- d) dipendono direttamente dalla proposizione principale o da una coordinata alla principale

18) Completare la frase "Non.....resistere alla tentazione":

- a) avrò
- b) sarò
- c) ho saputo
- d) credo

 Pagina 4/18

19) Nella frase "Tornò indietro a prendere il regalo, anche se era davvero in ritardo" la locuzione "anche se" assume funzione di congiunzione...

- a) subordinante consecutiva
- b) locuzione prepositiva
- c) subordinante concessiva
- d) subordinante causale

20) Indicare il plurale di "terremoto":

- a) terramote
- b) terramoti
- c) terrimoti
- d) terremoti

21) A quale organizzazione politica appartenevano gli aggressori di Sergio Ramelli?

- a) ordine nuovo
- b) nessuna delle altre risposte è corretta
- c) Avanguardia Operaia
- d) N.A.R

22) Che cosa avvenne in Giordania nel Settembre del 1970, noto nella storia araba come "Settembre Nero"?

- a) nessuna delle altre risposte è corretta
- b) Una violenta repressione di militanti e civili palestinesi ad opera del Re Husayn di Giordania
- c) Una violenta epidemia che causò la morte di molte persone
- d) Un conflitto tribale che causò la morte di molte persone

23) L'ammissione della plebe al servizio militare volontario e retribuito rappresentò il punto di maggior rilievo della riforma dell'arruolamento proposta ed attuata nel 107 a.C. da...

- a) Tiberio Sempronio Gracco
- b) Lucio Cornelio Silla
- c) Caio Mario
- d) Marco Terenzio Varrone

24) Indicare quale opzione di risposta riporta l'anno in cui morì Teodorico il grande.

- a) 566 d.C.
- b) 656 d.C.
- c) 526 d.C.
- d) 496 d.C.

25) Quando è stato depresso Nicolae Ceausescu?

- a) Nel 1989
- b) Nel 2005
- c) Nel 2015
- d) Nel 1995

26) In quale anno vennero convocate le prime elezioni parlamentari generali in Birmania, dopo il colpo di Stato che portò all'instaurazione del regime militare?

- a) 2001
- b) 1979
- c) 1988
- d) 2015

27) Chi è considerato il responsabile della Strage di Ustica?

- a) ISIS
- b) L'organizzazione terroristica ETA
- c) Le circostanze sono tutt'ora non completamente chiarite
- d) L'organizzazione terroristica IRA

28) Quale tra le seguenti possiamo considerare una motivazione degli attriti da Principi e Imperatore nel Sacro Romano Impero Germanico?

- a) Il fatto che i Principi pretendessero di essere il tassello fondamentale dell'unità dell'esercito
- b) Il fatto che i Principi fossero il tassello fondamentale dell'unità dell'esercito
- c) Le modalità accentratrici del governo dell'Imperatore
- d) Non vi era alcun tipo di attrito tra i Principi e l'Imperatore

29) Come possiamo considerare l'operato del Kuwait in relazione al recente conflitto civile in Yemen?

- a) di sostegno al deposedo governo Hadi
- b) nessuna delle altre risposte è corretta
- c) di sostegno alle forze islamiste legate ad Al Qaeda e ISIS
- d) di sostegno alla popolazione sciita e alle forze Huthi

30) Cosa indica la sigla FLN per quel che riguarda il panorama politico Algerino?

- a) Un trattato di libero scambio tra la Francia e l'ex colonia Algerina
- b) Un trattato di libera circolazione tra Francia e Algeria
- c) Il Fronte di Liberazione Nazionale che lottò contro l'occupazione Francese
- d) Un'organizzazione terroristica islamica algerina affiliata all'ISIS

31) Qual è la sigla della provincia di Ravenna?

- a) RA
- b) RE
- c) RV
- d) RN

32) Quale delle seguenti città si trova più ad est?

- a) Brescia
- b) Ancona
- c) Rimini
- d) Latina

33) Quale dei seguenti Stati è bagnato dall'Oceano Pacifico?

- a) Messico
- b) Francia
- c) India
- d) Afghanistan

34) Quale di questi Stati non fa parte del Medio Oriente?

- a) Georgia
- b) Siria
- c) Arabia Saudita
- d) Giordania

35) Lo stretto di Malacca..

- a) divide la penisola di Malacca da Taiwan
- b) è uno stretto che mette in comunicazione il Mar Rosso e il Mar Arabico
- c) divide la penisola di Malacca dall'isola di Sumatra
- d) divide la penisola di Malacca dallo Sri Lanka

36) Qual è l'etnia prevalente in Afghanistan?

- a) turkmeni
- b) Tusci
- c) Kazachi
- d) Pashtun

37) In quale area della Germania si trova Monaco?

- a) Sud
- b) Nord
- c) Centro
- d) Ovest

38) Quale tra queste è lingua ufficiale della Repubblica Dominicana?

- a) Inglese
- b) Spangolo
- c) Portoghese
- d) Francese

39) Non fa parte delle Isole Eolie...

- a) Isola di Panarea
- b) Isola di Lipari
- c) Isola di Favignana
- d) Isola Alicudi

40) La profondità massima del mar Tirreno è...

- a) circa 2.900 metri
- b) circa 10.000 metri
- c) circa 1.500 metri
- d) circa 3.800 metri

41) Secondo la dichiarazione dei redditi, quale, tra i seguenti gruppi, sono tenuti a pagare di più?

- a) Gli artigiani
- b) I cittadini sono tenuti a pagare in uguale misura
- c) I cittadini più ricchi
- d) Gli imprenditori

42) Chi è il Sindaco dell'Aquila a tutto il maggio 2016?

- a) Massimo Bugani
- b) Marco Filippeschi
- c) Massimo Cialente
- d) Marco Alessandrini

43) In quali scuole è obbligatorio studiare l'educazione stradale?

- a) Quelle di ogni ordine e grado
- b) Solo in quelle medie
- c) Non è obbligatoria
- d) Solo in quelle elementari

44) La responsabilità penale è:

- a) personale o solidale a seconda dei casi
- b) personale, ma con delle eccezioni per particolari categorie di soggetti
- c) personale
- d) solidale

45) Un avvocato può essere nominato membro della Corte Costituzionale?

- a) Sì, purché non eserciti durante il mandato
- b) Nessuna delle precedenti risposte è corretta
- c) Sì, senza limitazioni
- d) No

46) La più elevata percentuale complessiva dei cittadini europei parla come lingua madre o come lingua straniera appresa...

- a) lo spagnolo
- b) l'inglese
- c) il tedesco
- d) il francese

47) I regolamenti indipendenti...

- a) Nessuna delle altre risposte è corretta
- b) Sono destinati esclusivamente ad attuare una disciplina di rango legislativo con norme di dettaglio
- c) Sono emanati in una materia in cui non vi sia una disciplina legislativa di grado primario
- d) Sono emanati dal Governo e volti ad attuare le direttive comunitarie

48) Quale, tra le seguenti, è una delle responsabilità del Sindaco?

- a) L'emanazione di leggi di applicazione delle direttive europee
- b) L'approvazione del bilancio circoscrizionale
- c) L'emanazione di ordinanze, valide sul territorio comunale
- d) Il controllo dell'operato della polizia municipale

49) Lo Stato è:

- a) una organizzazione politica e giuridica della vita sociale, costituita da due elementi personali e reali (popolazione e territorio) e da un elemento costituzionale (sovranità)
- b) una istituzione ormai superata e sostituita da nuove forme di autogoverno
- c) una rappresentazione della prevalenza della volontà collettiva su quella dei singoli
- d) l'insieme delle classi sociali più forti dal punto di vista economico

50) Nell'ordinamento italiano il Parlamento è un organo:

- a) semplice
- b) collegiale
- c) semplice e collegiale
- d) complesso

51) Per quale valore di x è verificata la seguente equazione $4(x - 1) = 2x - 6$?

- a) $x = 6$
- b) $x = -6$
- c) $x = 1$
- d) $x = -1$

52) L'espressione $(-3a) \cdot (-4a)$ è uguale a:


- a) $-12a$
- b) $-12a^2$
- c) $12a^2$
- d) $12a$

53) Qual è la soluzione dell'equazione $9x=135$?

- a) $x=30$
- b) $x=15$
- c) $x=150$
- d) $x=21$

54) Quale tra i seguenti numeri non è primo?

- a) 3
- b) 22
- c) 71
- d) 11



55) Risolvere la seguente espressione:

$$-2/3 + (-2/3 + 3/4 - 1/6) + 1/24$$

- a) $-1/24$
- b) $-17/24$
- c) $-7/4$
- d) $-1/2$

56) Il 16% di 9600 è uguale a:

- a) 1536
- b) 85
- c) 153
- d) 960

57) La retta di equazione $y = 3x$ in quali quadranti giace?

- a) Nel I e III quadrante
- b) Nel I e II quadrante
- c) Nel II e IV quadrante
- d) Nel II e III quadrante

58) Indicare la lunghezza dell'ipotenusa di un triangolo rettangolo i cui cateti misurano 15 cm e 20 cm.

- a) 75 cm
- b) 6 cm
- c) 5 cm
- d) 25 cm

59) Determinare l'area della superficie laterale di un cilindro equilatero, sapendo che l'area della superficie totale è $3174\pi \text{ cm}^2$.

- a) $3100\pi \text{ cm}^2$
- b) $4232\pi \text{ cm}^2$
- c) $1226\pi \text{ cm}^2$
- d) $2116\pi \text{ cm}^2$

60) Determinare l'altezza di un cilindro equilatero che ha l'area laterale di $784\pi \text{ cm}^2$.

- a) 14 cm
- b) 22 cm
- c) 28 cm
- d) 30 cm

61) Le parti principali della suddivisione del corpo umano sono :


- a) testa, addome, spalle
- b) capo, tronco, arti
- c) arti, petto, schiena
- d) dorso, gambe, braccia

62) Un ecosistema è:

- a) il luogo dove vive una specie animale
- b) l'insieme dell'uomo e del suo ambiente
- c) l'insieme delle piante e degli animali di un ambiente
- d) il complesso di relazioni tra gli organismi di un ambiente e l'ambiente stesso

63) Sapendo che l'unità di misura di un grado Celsius corrisponde a 1,8 gradi Fahrenheit e che i valori per il punto di congelamento dell'acqua sono 0° C e 32° F , a quanto corrispondono 146° C ?

- a) $326,8^\circ \text{ F}$
- b) $294,8^\circ \text{ F}$
- c) $320,4^\circ \text{ F}$
- d) $113,1^\circ \text{ F}$

 Pagina 9/18

64) Il "prendi ghiaccio" è un esempio di leva:

- a) di primo tipo
- b) di terzo tipo
- c) di secondo tipo
- d) Non è una leva

65) "Tsunami" è un termine di origine giapponese che si riferisce:

- a) alle correnti sottomarine fredde
- b) all'onda di maremoto
- c) alla risacca
- d) all'alta marea

66) L'elio è:

- a) un minerale
- b) un gas
- c) una soluzione
- d) un liquido

67) Il nucleo della terra a che profondità è?

- a) 7580 km
- b) 9850 km
- c) 6370 km
- d) 5730 km

68) I non metalli:

- a) non sono duttili e malleabili
- b) sono duttili e malleabili
- c) sono malleabili
- d) non esistono

69) Nell'intestino tenue arriva:

- a) solo il succo pancreatico
- b) solo la bile
- c) la bile e il succo pancreatico
- d) il succo gastrico

70) È un'unità di misura per l'area:

- a) il Rankine
- b) il pollice quadrato
- c) il carato
- d) il centilitro

71) Il corretto significato di "pavement" è :

- a) marciapiede
- b) palco
- c) mattonella
- d) pavimento

72) Your son is much taller than when I last saw him. He ... a lot

- a) grewed
- b) grew
- c) have grown
- d) has grown

73) In inglese "sell" significa :

- a) cercare
- b) vendere
- c) alzarsi
- d) mandare

74) Please drive It's a dangerous road.

- a) careful
- b) attentfully
- c) carefully
- d) attention

75) How much ... the t-shirts?

- a) 're
- b) Is
- c) 's
- d) are

76) A strange thing happened ... me a few days ago

- a) on
- b) to
- c) into
- d) in

77) Susan ... in the car accident.

- a) was hurt
- b) is hurt
- c) hurt
- d) was hurted

78) In inglese "grey" significa :

- a) verde
- b) giallo
- c) bianco
- d) grigio

79) I will buy a lasagna ... tonight.

- a) for eat
- b) to eat
- c) for eating
- d) eating

80) He's the man ... son works for FIAT.

- a) who
- b) whom
- c) whose
- d) that

81) Quale delle seguenti serie di segmenti, espressi in cm, possono formare i lati di un quadrilatero?

- a) 34, 58, 53, 156
- b) 188, 70, 46, 61
- c) 178, 80, 35, 81
- d) 97, 19, 160, 33

W *D* *fw* *M* *Sto* *W*

82) La somma dell'età di 6 ragazzi è di 64 anni. Quale sarà la loro somma fra 6 anni?

- a) 106
- b) 70
- c) 76
- d) 100

83) Qual è il significato della parola "brado"?

- a) Nostrano
- b) Opposto
- c) Selvatico
- d) Perduto

84) B D F H, quale delle seguenti opzioni prosegue la serie?

- a) M
- b) I
- c) G
- d) L

85) Qual è il significato del termine "Calunnia"?

- a) Regressione
- b) Denigrazione
- c) Decadenza
- d) Canicola

86) Quale delle seguenti serie di segmenti, espressi in cm, possono formare i lati di un quadrilatero?

- a) 80, 93, 238, 54
- b) 82, 89, 255, 76
- c) 165, 58, 84, 37
- d) 5, 177, 85, 77

87) Se $A = 3$, $C = 9$ e $F = 18$ allora....

- a) $H = 24$
- b) $G = 20$
- c) $B = 4$
- d) $D = 11$

88) Alla festa di Maria la mamma ha diviso la torta in 20 fette, i suoi amici ne mangiano il 73%. Quante fette rimangono nel vassoio?

- a) Meno di 4
- b) 7
- c) 8
- d) Più di 5

89) "Caciotta : salame = X : affettato" Quale termine completa la seguente proporzione?

- a) X = scamorza
- b) X = formaggio
- c) X = cena
- d) X = cibo

90) Se Bruno trova sia il pennello che i colori allora dipingerà altrimenti andrà in bicicletta. Bruno sta pedalando. Alla luce delle precedenti affermazioni individuare quella falsa.

- a) Potrebbe aver trovato il pennello ma non i colori
- b) Non ha trovato nè i colori nè il pennello
- c) Potrebbe aver trovato i colori ma non il pennello
- d) Ha trovato sia i colori che il pennello

91) Secondo quanto disposto dall'art. 629 del D. Lgs. 15 Marzo 2010 n. 66, il grado dei sottufficiali di "sergente maggiore" per il Corpo della Guardia di finanza corrisponde a:

- a) brigadiere capo
- b) brigadiere
- c) secondo capo
- d) secondo capo scelto

92) Secondo il D. Lgs. 15 Marzo 2010 n. 66, il militare cui è impartito un ordine manifestamente rivolto contro le istituzioni dello Stato o la cui esecuzione costituisce comunque manifestamente reato, ha il dovere:

- a) di non eseguire l'ordine e di informare al più presto i suoi superiori
- b) di eseguire l'ordine solo se lo stesso è impartito da un ufficiale superiore
- c) di eseguire comunque l'ordine
- d) di eseguire l'ordine solo se si trova impossibilitato ad informare i suoi superiori

93) Secondo il D. Lgs. 15 Marzo 2010 n. 66, gli ufficiali superiori delle Forze armate sono eleggibili a consigliere regionale nel territorio nel quale esercitano il comando?

- a) sì, liberamente
- b) no, tranne se l'interessato cessa dalle funzioni per dimissioni, trasferimento, revoca dell'incarico o del comando, collocamento in aspettativa non retribuita, non oltre il giorno fissato per la presentazione delle candidature
- c) no, in nessun caso
- d) solo se in possesso di un'autorizzazione speciale rilasciata dal Ministro della difesa

94) Entro quale termine può essere presentata dal militare l'istanza di ricusazione del componente o dei componenti della commissione di disciplina nell'ambito di un procedimento disciplinare di stato?

- a) Entro due giorni dalla data della comunicazione della convocazione della commissione di disciplina.
- b) Entro trenta giorni dalla data della comunicazione della convocazione della commissione di disciplina.
- c) In ogni momento.
- d) Entro cinque giorni dalla data della comunicazione della convocazione della commissione di disciplina.

95) Secondo il D. Lgs. 15 Marzo 2010 n. 66, gli "ufficiali inferiori" sono quelli con grado compreso da:

- a) sottotenente a capitano e corrispondenti
- b) tenente a capitano e corrispondenti
- c) sottotenente a colonnello e corrispondenti
- d) sergente a capitano e corrispondenti

96) Quale articolo del D.P.R. 90/2010 e aa.vv. si occupa dei rapporti con le commissioni parlamentari?

- a) L'art.800
- b) L'art.876
- c) L'art. 789
- d) L'art. 926

97) La violazione rilevante dei doveri attinenti al grado e alle funzioni del proprio stato può comportare:

- a) rimprovero
- b) la consegna di rigore
- c) il carcere a vita
- d) richiamo

98) Per quanto attiene al suo posizionamento, l'art. 1356 del C.O.M. è l'ultimo articolo del:

- a) Libro V, Titolo V, Capo II, Sezione I
- b) Libro IV, Titolo VIII, Capo III, Sezione I
- c) Libro IV, Titolo I, Capo III, Sezione II
- d) Libro V, Titolo V, Capo I, Sezione II

99) Entro quanto tempo gli organi di rappresentanza devono comunicare, se richiesto, il proprio parere?

- a) Entro quindici giorni dalla data della richiesta.
- b) Entro trenta giorni dalla data della richiesta.
- c) Entro dieci giorni dalla data della richiesta.
- d) Entro sessanta giorni dalla data della richiesta.

100) Quale tra le seguenti affermazioni è corretta in merito a quanto stabilito nell'art. 725 del D.P.R. 90/2010 e aa.vv.?

- a) Il superiore provvedere all'istruzione del personale
- b) Il superiore deve curarsi solo di se stesso
- c) Il superiore non deve approfondire la conoscenza dei suoi dipendenti
- d) Il superiore non deve curare le condizioni di vita e di benessere del personale

DOMANDE DI RISERVA

101) Da quali preposizioni è introdotto il complemento di stato in luogo?

- a) Davanti, dietro
- b) Verso, da
- c) Dove , per
- d) Fra, sotto, in

102) Si indichi che tipo di subordinata è quella sottolineata nella seguente frase: "Sorridente conquisti tutti"?

- a) strumentale
- b) avversativa
- c) comparativa
- d) temporale

103) Quale tra i seguenti è un verbo irregolare della seconda coniugazione?

- a) Venire
- b) Uscire
- c) Udire
- d) Appendere

104) Cosa s'intende per "Operazione Stay Behind" in relazione al periodo della Guerra Fredda?

- a) La costituzione di un esercito paramilitare Polacco pronto all'intervento in caso di invasione Nazista ed economicamente supportato dalla Gran Bretagna
- b) La costituzione di un esercito paramilitare Polacco pronto all'intervento in caso di invasione Sovietica ed economicamente supportato dalla Gran Bretagna
- c) La costituzione di eserciti paramilitari pronti all'intervento in caso di invasione sovietica che svolsero in realtà attività terroristiche e stragiste per non permettere la presa di potere dei partiti comunisti europei
- d) Il complesso dell'attività d'intelligence del blocco NATO durante la guerra fredda

105) In quale paese fu ucciso Ernesto Che Guevara?


- a) Bolivia
- b) Argentina
- c) Cuba
- d) Stati Uniti

106) Immaginando una carta mentale dell'Europa, dove sarà più fitta la rete di vie di comunicazione?

- a) Nell'Europa centro-settentrionale
- b) Nell'Europa settentrionale
- c) Nell'Europa orientale
- d) Nell'Europa centro-occidentale

107) In che anno entrò in vigore il Trattato di Maastricht?

- a) 1998
- b) 2001
- c) 1989
- d) 1993



108) Lo Statuto della Regione regola, tra l'altro, ...

- a) Nessuna delle altre risposte è corretta
- b) La pubblicazione delle leggi e dei regolamenti regionali
- c) La durata in carica degli organi elettivi della Regione
- d) Le competenze in materia di potestà legislative della Regione

109) Il Garante europeo della protezione dei dati, ha sede:

- a) a Bruxelles
- b) a Strasburgo
- c) a Roma
- d) a Madrid

110) Eseguire la seguente moltiplicazione di polinomi: $(x+2y+1)(2x-1)$

- a) $2x^2+x+4xy-2y+1$
- b) $-2x^2-x+4xy-2y-1$
- c) $2x^2+x+4xy-2y-1$
- d) $2x^2-x-4xy-2y-1$

111) Calcolare x nell'equazione

$$2(x + 3) = 4(x - 4)$$

- a) 3,5
- b) 11
- c) -3,5
- d) -11

112) Siano dati due insiemi A e B. Sapendo che A è costituito da 3 elementi e B da 5 elementi, indicare quanti sono gli elementi dell'insieme $A \times B$

- a) 2
- b) 8
- c) 5
- d) 15

113) Qual è la soluzione della seguente sottrazione:

$$(-97) - (-56)$$

- a) -41
- b) +41
- c) -40
- d) +153

114) Calcolare l'area di un rombo le cui diagonali misurano 25 m e 2 m.

- a) 50 m
- b) 50 m^2
- c) 5 m^2
- d) 25 m^2

115) Un rettangolo con il perimetro di 120 cm, ruotando intorno a un suo lato, genera un cilindro avente un raggio di 24 cm. Calcolare l'area totale del cilindro.

- a) $2100\pi \text{ cm}^3$
- b) $5660\pi \text{ cm}^2$
- c) $2880\pi \text{ cm}^2$
- d) $1440\pi \text{ cm}^2$

116) Quali tra i seguenti non fa parte dello scheletro umano?

- a) Malleolo
- b) Rotula
- c) Tricipite
- d) Femore

W D

efew Pagina 15/18

mw Jho Cell

117) Il Cuore e' :

- a) Una valvola
- b) Un organo muscolare
- c) Un legamento
- d) Una ghiandola

118) We sailed ... the Channel on a speed boat.

- a) on
- b) over
- c) above
- d) across

119) Is it possible to ... for the next term's classes?

- a) enrol
- b) join in
- c) sign
- d) enter

120) Un ciclista ha percorso 36 Km, pari al 90% del suo tragitto. Quanto misura l'intero tragitto?

- a) 40 Km
- b) 162 Km
- c) 324 Km
- d) 20 Km

121) Da una catena di montaggio escono 940 pezzi in 50 ore. Quanti pezzi vengono prodotti in 70 ore?

- a) 2.632
- b) 1.974
- c) 877
- d) 1.316

122) Su quale aspetto norma la lettera g), comma 8 dell'art. 1478 del C.O.M., parlando dei campi di interesse per cui gli organi rappresentativi hanno la funzione di prospettare le istanze?

- a) Pensioni
- b) Ferie
- c) Alloggi
- d) Stipendi

123) Secondo quanto disposto dall'art. 629 del D. Lgs. 15 Marzo n. 66, il grado dei sottufficiali di "sergente" per l'Arma dei carabinieri corrisponde a:





- a) brigadiere capo
- b) vicebrigadiere
- c) brigadiere
- d) maresciallo


124) Cosa disciplina l'art. 743 del D.P.R. 90/2010 e aa.vv.?

- a) Il rientro dopo le feste
- b) Il rientro immediato delle mogli dei commilitoni
- c) Le feste natalizie
- d) Il rientro immediato in reparto

125) Ai sensi del comma 1 dell'art. 1487 del C.O.M., chi non è eleggibile alla carica di presidente della provincia, nel territorio nel quale esercita il comando?

- a) I sergenti inferiori
- b) Gli ammiragli
- c) I marescialli inferiori
- d) Le reclute superiori

il D  Pagina 17/18   



W D

fw

M Felles Coll